

Opgave til samling af grafer over indbyggertallet i udvalgte områder i Køge Bugt regionen i 1925-2010

Opgaverne er kvalitative og beskrivende. Her lærer vi at aflæse grafer. Graferne findes som separat dokument.

- Kig på graferne. Find områderne på et kort.
- Print evt. graferne ud. Sortér dem ud fra ligheder og forskelle. Diskuter befolkningsudviklingen i områderne. Er der sammenhænge?
- Aflæs befolkningstallet ved forskellige årstal og indfør dem i de manglende felter:

Danmark	
1945	1995

Ishøj sogn	
1950	2010

Valby sogn	
1950	2010

Måløv sogn	
1950	2010

Tune sogn	
1950	2010

- Aflæs graferne og find årstal ud fra givne indbyggertal. Skriv årstallet i de manglende felter.

Danmark	
4 mio.	5 mio.

Ishøj sogn	
5000	17.000

Valby sogn	
8.400	12.000

Måløv sogn	
2.000	7.000

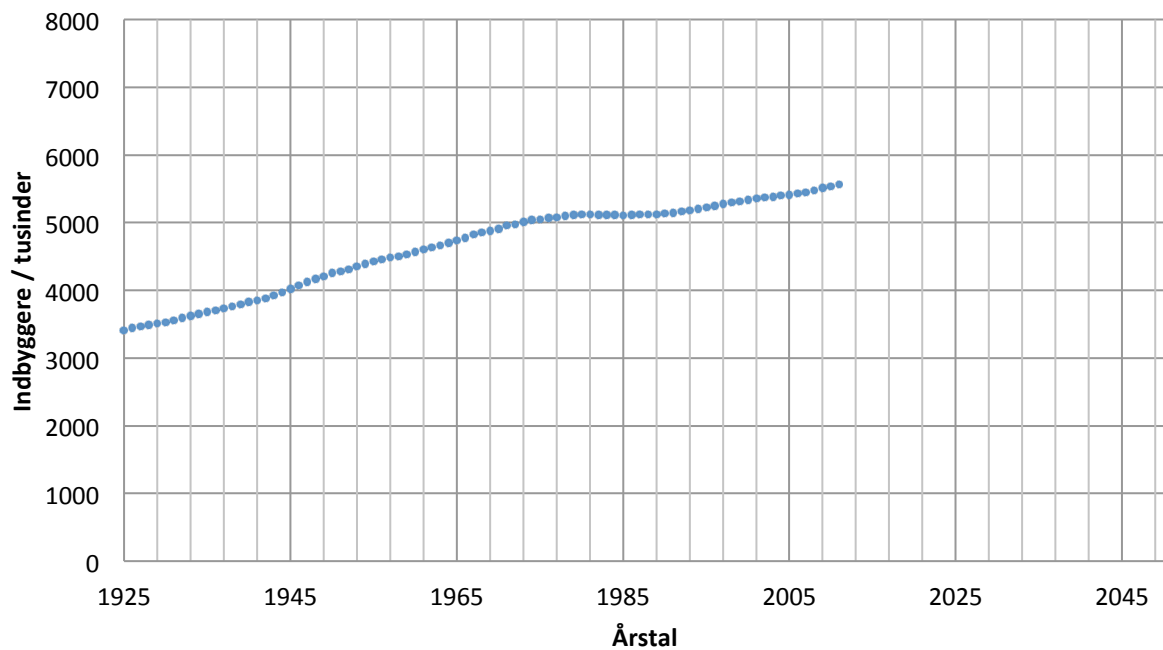
Tune sogn	
1.000	5.300

Prognoser (Det fremtidige indbyggertal)

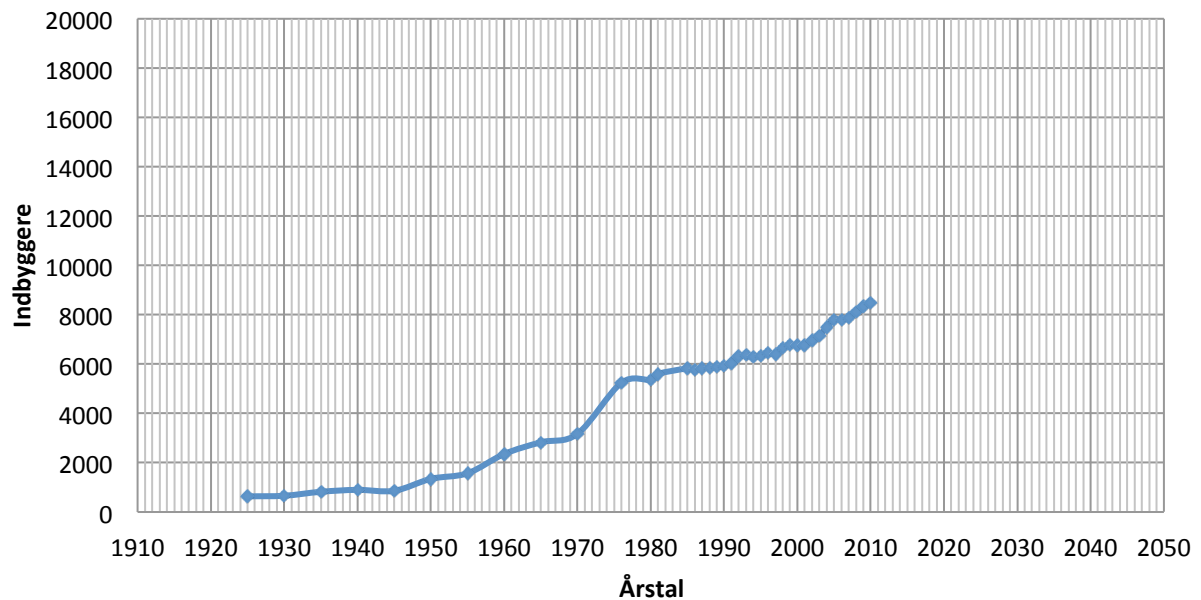
I det følgende vises grafer for Ishøj, Valby, Tune og Måløv sogn samt indbyggertallet for hele Danmark. Prøv at forlæng graferne på en "naturlig" måde og vurder, hvad indbyggertallet vil være i år 2050. Diskutér, hvor realistisk din fremtidsvurdering vil være.



Befolkningsudvikling i Danmark

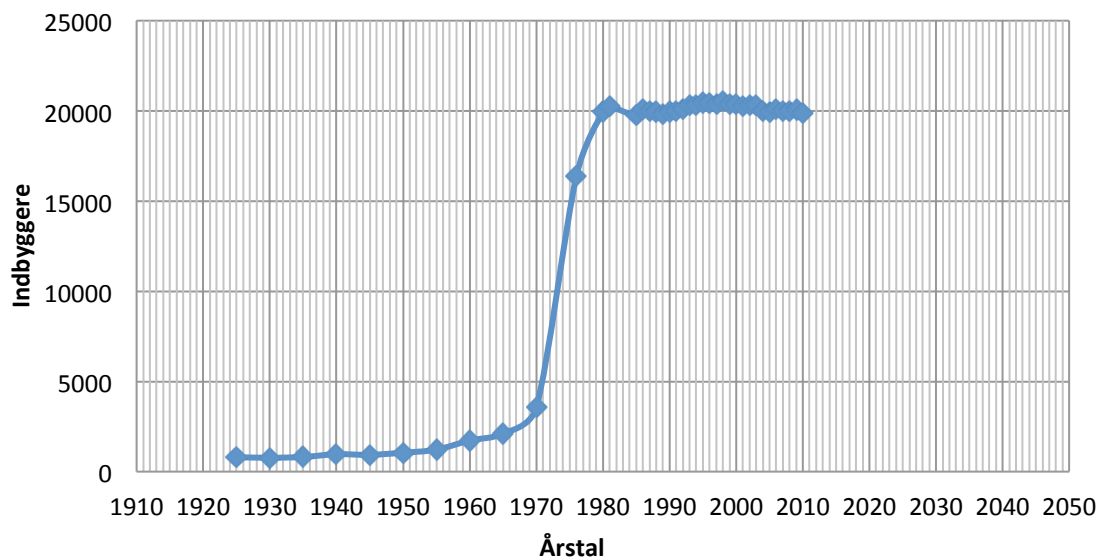


Befolkningsudvikling - Måløv sogn





Indbyggertal - Ishøj



Indbyggertal - Valby sogn

